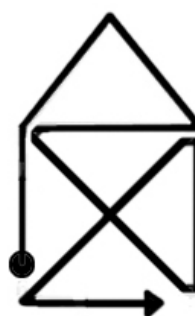
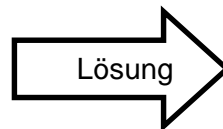


Problem des Monats

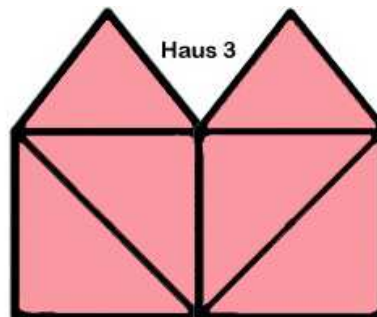
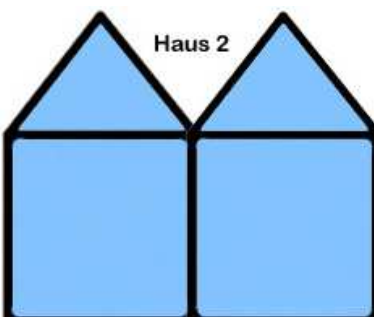
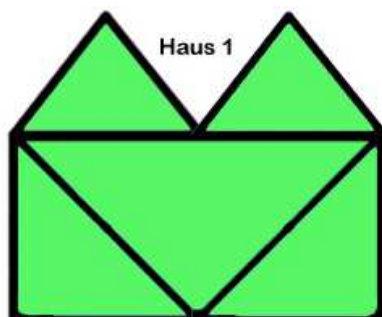
Dezember 2017

Das Haus des Nikolaus

Das bekannte „Haus des Nikolaus“ kann man in einem Zug zeichnen, ohne den Stift abzusetzen und ohne eine Strecke zweimal zu durchlaufen.



Zwei von den folgenden drei abgebildeten Doppelhäusern können auch nach den genannten Regeln gezeichnet werden.



- Bei welchem der drei Doppelhäuser geht dies nicht?
- Zeichne bei den anderen beiden jeweils eine Lösung wie im Beispiel oben, so dass dein Startpunkt und der Linienzug deutlich erkennbar werden!